




Mission : en équipe et à partir des trois indices ci-dessous vous devez retrouver trois posters sur l'ensemble de l'exposition « L'EAU ». Une fois trouvés, cela vous permettra d'obtenir les informations demandées...

<p>Indice :</p> <p>L'eau du ciel.</p> 	<p>Information 1 : Titre du poster (/1)</p> <p>Le cycle de l'eau</p>	<p>Score : (/3)</p>
	<p>Information 2 : (/1)</p> <p>Sous quelle forme est la quasi-totalité de l'eau sur Terre ?</p> <p>Sous forme d'eau salée.</p>	
	<p>Information 3 : (/1)</p> <p>Que peut-on dire de la répartition de l'eau douce sur Terre ?</p> <p>L'eau douce est inégalement répartie.</p>	

<p>Indice :</p> <p>Chacun sa piscine.</p> 	<p>Information 1 : Titre du poster (/1)</p> <p>L'accès à l'eau, révélateur des inégalités sociales</p>	<p>Score : (/3)</p>
	<p>Information 2 : (/1)</p> <p>Combien de pays dans le monde ont moins de 20 litres d'eau par jour par personne pour l'ensemble des besoins domestiques (consommation, cuisine, hygiène, toilettes, lavage,...) ?</p> <p>19</p>	
	<p>Information 3 : (/1)</p> <p>Combien un français consomme-t-il de litres d'eau par jour pour l'ensemble de ses besoins domestiques (consommation, cuisine, hygiène, toilettes, lavage,...) ?</p> <p>300 litres</p>	

<p>Indice :</p> <p>Chacun sa baignoire.</p> 	<p>Information 1 : Titre du poster (/1)</p> <p>L'eau dans les pays en développement</p>	<p>Score : (/3)</p>
	<p>Information 2 : (/1)</p> <p>Quelle proportion de l'humanité ne connaît pas le confort d'ouvrir un robinet et de voir couler de l'eau potable ?</p> <p>Près de la moitié de l'humanité.</p>	
	<p>Information 3 : (/1)</p> <p>Qu'est-ce qui peut prendre jusqu'à plusieurs heures ?</p> <p>D'aller à pieds chercher l'eau au puits.</p>	

Parmi les propositions suivantes, cochez celle qui résume le mieux les trois photographies. (/1)

- Des changements liés à l'Homme.
- Pollution et dégradation des ressources.
- Différentes exploitations de l'eau.
- L'Homme et son rapport à l'eau.
- L'eau, un élément vital.
- La répartition de l'eau dans le monde.


Score : (/1)


Bonus. (+2)


Quel est le poster qui vous interpelle le plus ? Pour quelles raisons ? rédigez au dos de la feuille (le maximum de 2 points de bonus est obtenu en fonction de la qualité du texte – idées et rédaction)

Score final:

Mission : en équipe et à partir des trois indices ci-dessous vous devez retrouver trois posters sur l'ensemble de l'exposition « L'EAU ». Une fois trouvés, cela vous permettra d'obtenir les informations demandées...

<p>Indice :</p> <p>Nuages sous les eaux.</p> 	<p>Information 1 : Titre du poster (1)</p> <p>L'eau au cœur de la vie</p>	<p>Score : (/3)</p>
	<p>Information 2 : (1)</p> <p>Combien de temps un être vivant peut-il survivre sans boire ?</p> <p>Seulement quelques jours.</p>	
	<p>Information 3 : (1)</p> <p>Quel minimum d'eau par jour devons-nous absorber ?</p> <p>Au moins 2 litres.</p>	

<p>Indice :</p> <p>Laver à l'eau du fleuve.</p> 	<p>Information 1 : Titre du poster (1)</p> <p>L'eau vecteur de pathologie</p>	<p>Score : (/3)</p>
	<p>Information 2 : (1)</p> <p>Quelle est la première cause de mortalité dans le monde ?</p> <p>L'eau non potable.</p>	
	<p>Information 3 : (1)</p> <p>Combien de milliards de personnes dans le monde vivent au quotidien dans une situation sans accès à une eau salubre ?</p> <p>2,5 milliards.</p>	

<p>Indice :</p> <p>De belles ocres pour des eaux sales.</p> 	<p>Information 1 : Titre du poster (1)</p> <p>Faire un meilleur usage de l'eau</p>	<p>Score : (/3)</p>
	<p>Information 2 : (1)</p> <p>Concernant l'eau traitée pour être potable, quel est le pourcentage réellement bu ?</p> <p>Seulement 1% de l'eau traitée pour être potable est bue.</p>	
	<p>Information 3 : (1)</p> <p>Dans les pays riches, l'arrosage des jardins se fait avec de l'eau traitée potable, que serait-il possible de faire ?</p> <p>Réutiliser les eaux usées de l'évier, récupérer l'eau de pluie.</p>	

Parmi les propositions suivantes, cochez celle qui résume le mieux les trois photographies. (/1)

- Des changements liés à l'Homme.
- Pollution et dégradation des ressources.
- Différentes exploitations de l'eau.
- L'Homme et son rapport à l'eau.
- L'eau, un élément vital.
- La répartition de l'eau dans le monde.


Score : (/1)


Bonus. (+2)


Quel est le poster qui vous interpelle le plus ? Pour quelles raisons ? rédigez au dos de la feuille (le maximum de 2 points de bonus est obtenu en fonction de la qualité du texte – idées et rédaction)

Score final:

Mission : en équipe et à partir des trois indices ci-dessous vous devez retrouver trois posters sur l'ensemble de l'exposition « L'EAU ». Une fois trouvés, cela vous permettra d'obtenir les informations demandées...

<p>Indice :</p> <p>Les marches du fleuve.</p> 	<p>Information 1 : Titre du poster (/1)</p> <p style="text-align: center;">L'eau dans la culture</p>	<p>Score : (/3)</p>
	<p>Information 2 : (/1) A quelle image l'eau est-elle souvent associée ?</p> <p style="text-align: center;">Image de la pureté et de la vie.</p>	
	<p>Information 3 : (/1) Eau du baptême pour les chrétiens, rites de purification pour l'Islam, quel cycle permet l'eau du Gange dans l'hindouisme ?</p> <p style="text-align: center;">Le cycle de réincarnation</p>	

<p>Indice :</p> <p>De l'eau pour rayon du cercle.</p> 	<p>Information 1 : Titre du poster (/1)</p> <p style="text-align: center;">De l'eau à tout prix</p>	<p>Score : (/3)</p>
	<p>Information 2 : (/1) Que cherche à faire les populations dans de très nombreuses régions du monde ?</p> <p style="text-align: center;">Trouver des solutions à la pénurie d'eau</p>	
	<p>Information 3 : (/1) Concernant la gestion de l'eau au 21^{ème} siècle, par quoi l'avenir est-il caractérisé ?</p> <p style="text-align: center;">Des difficultés d'approvisionnement en eau.</p>	

<p>Indice :</p> <p>Un désert, un fleuve, un village.</p> 	<p>Information 1 : Titre du poster (/1)</p> <p style="text-align: center;">Le nécessaire partage de l'eau</p>	<p>Score : (/3)</p>
	<p>Information 2 : (/1) Quels sont les trois pays qui se disputent les eaux du Tigre et de l'Euphrate ?</p> <p style="text-align: center;">La Turquie, la Syrie, l'Iraq.</p>	
	<p>Information 3 : (/1) Que peut permettre une meilleure coopération internationale ?</p> <p style="text-align: center;">Un meilleur partage de l'eau.</p>	

Parmi les propositions suivantes, cochez celle qui résume le mieux les trois photographies. (/1)

- Des changements liés à l'Homme.
- Pollution et dégradation des ressources.
- Différentes exploitations de l'eau.
- L'Homme et son rapport à l'eau.
- L'eau, un élément vital.
- La répartition de l'eau dans le monde.


Score : (/1)


Bonus. (+2)

Quel est le poster qui vous interpelle le plus ? Pour quelles raisons ? rédigez au dos de la feuille (le maximum de 2 points de bonus est obtenu en fonction de la qualité du texte – idées et rédaction)

Score final:

Mission : en équipe et à partir des trois indices ci-dessous vous devez retrouver trois posters sur l'ensemble de l'exposition « L'EAU ». Une fois trouvés, cela vous permettra d'obtenir les informations demandées...

Indice :	Information 1 : Titre du poster (1)	Score : (/3)
<p>Petit puits, grande culture.</p> 	L'eau indispensable à l'agriculture	
	<p>Information 2 : (1) Quelle proportion d'eau prélevée dans le milieu naturel sert à l'agriculture ?</p> <p style="text-align: center;">70%</p>	
	<p>Information 3 : (1) Dans quelle proportion les surfaces irriguées ont-elles augmenté entre 1950 et aujourd'hui ?</p> <p style="text-align: center;">Les surfaces ont doublé.</p>	

Indice :	Information 1 : Titre du poster (1)	Score : (/3)
<p>Le fleuve coupé.</p> 	Des fleuves à tout faire	
	<p>Information 2 : (1) Que permet de produire la force motrice de l'eau ?</p> <p style="text-align: center;">Production d'électricité.</p>	
	<p>Information 3 : (1) 600 barrages au début du 20^{ème} siècle, combien en compte-t-on aujourd'hui ?</p> <p style="text-align: center;">50 000 barrages.</p>	

Indice :	Information 1 : Titre du poster (1)	Score : (/3)
<p>Pique-nique au-dessus de l'eau.</p> 	L'eau dans la vie quotidienne des citadins	
	<p>Information 2 : (1) Quelle quantité d'eau faut-il pour produire une paire de chaussures ?</p> <p style="text-align: center;">8000 litres.</p>	
	<p>Information 3 : (1) De nombreux produits alimentaires et industriels nécessitent de grandes quantités d'eau, pour quelle raison ?</p> <p style="text-align: center;">Pour l'ensemble du processus de fabrication.</p>	

Parmi les propositions suivantes, cochez celle qui résume le mieux les trois photographies. (/1)

- Des changements liés à l'Homme.
- Pollution et dégradation des ressources.
- Différentes exploitations de l'eau.
- L'Homme et son rapport à l'eau.
- L'eau, un élément vital.
- La répartition de l'eau dans le monde.

Score : (/1)

Bonus. (+2)


Quel est le poster qui vous interpelle le plus ? Pour quelles raisons ? rédigez au dos de la feuille (le maximum de 2 points de bonus est obtenu en fonction de la qualité du texte – idées et rédaction)

Score final:

Mission : en équipe et à partir des trois indices ci-dessous vous devez retrouver trois posters sur l'ensemble de l'exposition « L'EAU ». Une fois trouvés, cela vous permettra d'obtenir les informations demandées...

<p>Indice :</p> <p>Des citernes, que de citernes !</p> 	<p>Information 1 : Titre du poster (1)</p> <p>La pollution des cours d'eau et des nappes.</p>	<p>Score : (/3)</p>
	<p>Information 2 : (1)</p> <p>Quelles sont les causes des pollutions chimiques des fleuves et des rivières ?</p> <p>Les engrais de synthèse, les pesticides et les rejets toxiques industriels</p>	
	<p>Information 3 : (1)</p> <p>Qu'est ce qui entraîne la pollution vers les cours d'eau et l'océan ?</p> <p>Le ruissellement des pluies et les infiltrations dans le sol.</p>	

<p>Indice :</p> <p>Les vagues ont des ailes.</p> 	<p>Information 1 : Titre du poster (1)</p> <p>La mer au centre du cycle de l'eau</p>	<p>Score : (/3)</p>
	<p>Information 2 : (1)</p> <p>Quelle quantité de produits chimiques est déversée dans les océans chaque année ?</p> <p>6 millions de tonnes.</p>	
	<p>Information 3 : (1)</p> <p>Pour quelles raisons les mers reçoivent-elles toutes les pollutions ?</p> <p>De par le cycle de l'eau, les mers sont la destination finale de presque tous les cours d'eau terrestres.</p>	

<p>Indice :</p> <p>Les défenses du marais.</p> 	<p>Information 1 : Titre du poster (1)</p> <p>Les zones humides : mi-terre mi-eau</p>	<p>Score : (/3)</p>
	<p>Information 2 : (1)</p> <p>L'homme en a altéré la moitié ; qu'appelle-t-on exactement zones humides ?</p> <p>Espaces terrestres recouverts d'eau au moins une partie de l'année</p>	
	<p>Information 3 : (1)</p> <p>Quels services environnementaux sont assurés par ces zones ?</p> <p>Épuration des eaux ; préservation de la biodiversité ; protection des risques d'inondation, de sécheresse, d'érosion des sols ; capacité à stocker le carbone.</p>	

Parmi les propositions suivantes, cochez celle qui résume le mieux les trois photographies. (1)

- Des changements liés à l'Homme.
- Pollution et dégradation des ressources.
- Différentes exploitations de l'eau.
- L'Homme et son rapport à l'eau.
- L'eau, un élément vital.
- La répartition de l'eau dans le monde.


Score : (/1)


Bonus. (+2)


Quel est le poster qui vous interpelle le plus ? Pour quelles raisons ? rédigez au dos de la feuille (le maximum de 2 points de bonus est obtenu en fonction de la qualité du texte – idées et rédaction)

Score final:

Mission : en équipe et à partir des trois indices ci-dessous vous devez retrouver trois posters sur l'ensemble de l'exposition « L'EAU ». Une fois trouvés, cela vous permettra d'obtenir les informations demandées...

<p>Indice :</p> <p>Fuir la Vilaine par le haut.</p> 	<p>Information 1 : Titre du poster (/1)</p> <p>Quand les hommes modifient la circulation de l'eau</p>	<p>Score : (/3)</p>
	<p>Information 2 : (/1)</p> <p>Les crues sont des événements normaux, dans quel cas cela devient une catastrophe ?</p> <p>Lorsqu'une plaine alluviale est aménagée et habitée.</p>	
	<p>Information 3 : (/1)</p> <p>Qu'est ce qui entraîne un ruissellement des eaux de pluie sans infiltration dans les sols et ainsi une concentration plus rapide dans les cours d'eau ?</p> <p>La coupe des forêts.</p>	

<p>Indice :</p> <p>Mer de glace.</p> 	<p>Information 1 : Titre du poster (/1)</p> <p>La fonction des glaciers</p>	<p>Score : (/3)</p>
	<p>Information 2 : (/1)</p> <p>Qu'est ce qui provoque la fonte accélérée des glaciers ?</p> <p>Le réchauffement climatique.</p>	
	<p>Information 3 : (/1)</p> <p>Si la fonte entraîne d'abord un excès d'eau, que va-t-il se passer ensuite ?</p> <p>Les rivières glaciaires s'assèchent et des fleuves peuvent devenir saisonniers.</p>	

<p>Indice :</p> <p>L'île verte.</p> 	<p>Information 1 : Titre du poster (/1)</p> <p>Changement climatique et cycle de l'eau</p>	<p>Score : (/3)</p>
	<p>Information 2 : (/1)</p> <p>Qu'est ce qui aura un impact durable dans le cycle de l'eau ?</p> <p>Le changement climatique provoqué par les activités humaines.</p>	
	<p>Information 3 : (/1)</p> <p>Du fait d'un climat plus chaud, quels événements extrêmes deviendront plus fréquents et plus importants ?</p> <p>Les inondations et les épisodes de sécheresse.</p>	

Parmi les propositions suivantes, cochez celle qui résume le mieux les trois photographies. (/1)

- Des changements liés à l'Homme.
- Pollution et dégradation des ressources.
- Différentes exploitations de l'eau.
- L'Homme et son rapport à l'eau.
- L'eau, un élément vital.
- La répartition de l'eau dans le monde.

Score : (/1)

Bonus. (+2)

Quel est le poster qui vous interpelle le plus ? Pour quelles raisons ? rédigez au dos de la feuille (le maximum de 2 points de bonus est obtenu en fonction de la qualité du texte – idées et rédaction)

Score final: